



### ZADANIE 1. W Kuchni



Przepis na jeden placek wymaga 3 jabłek. Chcesz upiec 4 takie placki dla całej rodziny. **Ile jabłek musisz kupić?**


### ZADANIE 2. W ogrodzie

Na grządce rośnie 15 tulipanów. Niestety 4 z nich zwiędły i trzeba je usunąć. **Ile zdrowych tulipanów zostało?**



### ZADANIE 3. Kalendarz

Marzec ma 31 dni. Dziś jest 25 marca. **Ile dni zostało do końca miesiąca?**



### ZADANIE 4. Słodycze



W torebce jest 12 cukierków. Chcesz nimi obdarować 3 wnucząt po równo. **Ile cukierków dostanie każde dziecko?**